


1**MES PETITS DEVOIRS DE MATHS CP**

Observe chaque dé et dis le nombre qu'il représente sans compter les points.

**2****MES PETITS DEVOIRS DE MATHS CP**

Observe chaque dé et dis le nombre qu'il représente sans compter les points.

**3****MES PETITS DEVOIRS DE MATHS CP**

Observe chaque image et dis combien il y a de doigts sans compter.

**4****MES PETITS DEVOIRS DE MATHS CP**

Compte jusqu'à 20 en avançant et en reculant avec et/ou sans la bande.

1	2	3	4	5	6	7	8	9	10	11	12	13	14	15	16	17	18	19	20

5**MES PETITS DEVOIRS DE MATHS CP**

Montre seulement les nombres avec ton doigt et nomme-les.

@	B	+	4	e
E	10	ç	l	5
«	H	w	6	G

6**MES PETITS DEVOIRS DE MATHS CP**

Dis combien il y a d'étoiles dans l'assiette. Tu peux vérifier en les barrant.

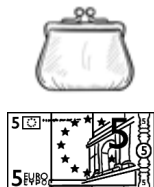

**7****MES PETITS DEVOIRS DE MATHS CP**

Compte jusqu'à 30 avec et/ou sans la file numérique.

0 1 2 3 4 5 6 7 8 9 10 11 12 13 14 15 16 17 18 19 20 21 22 23 24 25 26 27 28 29 30

8**MES PETITS DEVOIRS DE MATHS CP**

Observe chaque porte-monnaie et dis combien d'argent il contient (euros).



9**MES PETITS DEVOIRS DE MATHS CP**

Nomme les figures géométriques.

**10****MES PETITS DEVOIRS DE MATHS CP**

Lis les nombres.

7

10

8

5

9


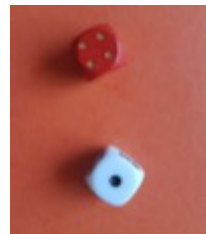


3

12

6

11**MES PETITS DEVOIRS DE MATHS CP**

Dis combien il y a de points sur chaque dé. Si c'est facile, dis combien de points il y a sur chaque photo

**12****MES PETITS DEVOIRS DE MATHS CP**

Trouve le résultat de ces additions.

$1+1=....$

$1+2=....$

$2+2=....$

$3+1=....$

$3+2=....$

13**MES PETITS DEVOIRS DE MATHS CP**

Observe chaque image et dis combien il y a de doigts sans compter.



