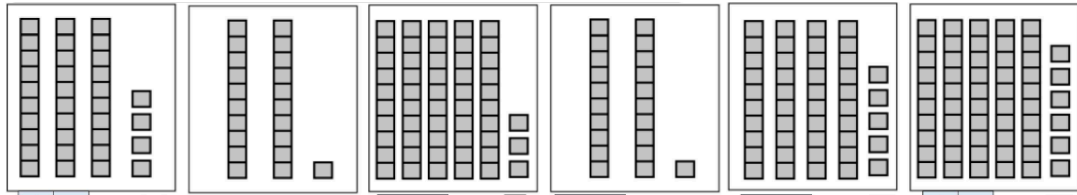


27**MES PETITS DEVOIRS DE MATHS CP**

Combien de cubes y a-t-il dans chaque boîte ?

**28****MES PETITS DEVOIRS DE MATHS CP**

Choisis le nombre qui convient.

$11 + _ = 20$	$12 + _ = 20$	$15 + _ = 20$	$16 + _ = 20$	$13 + _ = 20$	$14 + _ = 20$
10 11 9 8	12 8 7 10	15 10 5 8	4 6 10 14	7 10 13 9	10 2 6 9

29**MES PETITS DEVOIRS DE MATHS CP**

Combien coûte chaque objet ?

**30****MES PETITS DEVOIRS DE MATHS CP**

Révise la table d'addition (+2)

+ 2	DÉPART	$0 + 2 =$	$2 + 2 =$	$4 + 2 =$	$6 + 2 =$
					$8 + 2 =$
$9 + 2 =$	$7 + 2 =$	$5 + 2 =$	$3 + 2 =$	$1 + 2 =$	$10 + 2 =$
$2 + 0 =$					
$2 + 10 =$	$2 + 1 =$	$2 + 9 =$	$2 + 2 =$	$2 + 8 =$	$2 + 3 =$
					$2 + 7 =$
	ARRIVÉE	$2 + 5 =$	$2 + 6 =$	$2 + 4 =$	

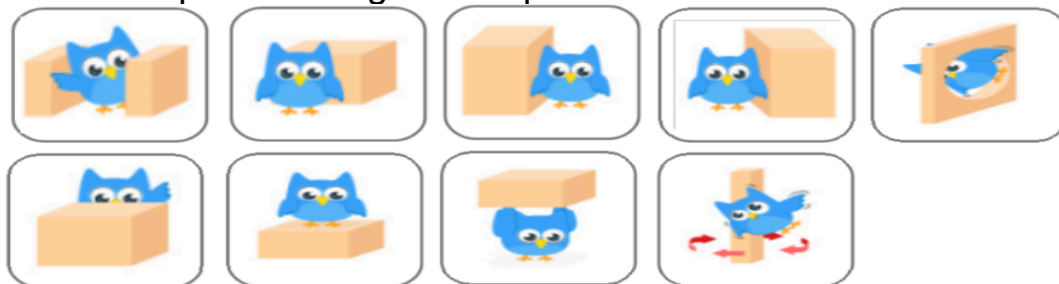
31**MES PETITS DEVOIRS DE MATHS CP**

Complète ces opérations à l'oral :

$5 - 2 = \dots\dots$ $17 - 2 = \dots\dots\dots$ $29 - 2 = \dots\dots\dots$ $30 - 2 = \dots\dots\dots$ $14 - 2 = \dots\dots$

32**MES PETITS DEVOIRS DE MATHS CP**


Lis les mots et pointe l'image correspondante :



- | | | | | |
|-------|----------|----------|----------|------|
| SOUS | SUR | DEVANT | DERRIERE | DANS |
| ENTRE | À DROITE | À GAUCHE | AUTOUR | |

33**MES PETITS DEVOIRS DE MATHS CP**

Révise la table d'addition (+3)

+ 3		DÉPART	$1 + 3 =$	$3 + 3 =$	$5 + 3 =$	$7 + 3 =$
						$9 + 3 =$
$10 + 3 =$	$8 + 3 =$	$6 + 3 =$	$4 + 3 =$	$2 + 3 =$	$0 + 3 =$	
$3 + 0 =$						
$3 + 10 =$	$3 + 1 =$	$3 + 9 =$	$3 + 2 =$	$3 + 8 =$	$3 + 3 =$	
						$3 + 7 =$
		ARRIVÉE	$3 + 5 =$	$3 + 6 =$	$3 + 4 =$	

34



MES PETITS DEVOIRS DE MATHS CP

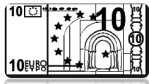
Combien d'argent me rend la marchande ?



Le piano coûte 45€, je donne



On me rend :



ou



ou



La moto coûte 38 €,

je donne



on me rend :.....€

35



MES PETITS DEVOIRS DE MATHS CP

Epelle les nombres (dis toutes les lettres) :

7

8

6

3

1

9

5

2

4

36



MES PETITS DEVOIRS DE MATHS CP

Lis les nombres.

57

40

29

65

70

33

16

37



MES PETITS DEVOIRS DE MATHS CP

Révisé la table d'addition (+4)

+ 4



DÉPART

0 + 4 =

2 + 4 =

4 + 4 =

6 + 4 =

8 + 4 =

9 + 4 =

7 + 4 =

5 + 4 =

3 + 4 =

1 + 4 =

10 + 4 =

4 + 0 =

4 + 10 =

4 + 1 =

4 + 9 =

4 + 2 =

4 + 8 =

4 + 3 =



ARRIVÉE

4 + 5 =

4 + 6 =

4 + 4 =

38**MES PETITS DEVOIRS DE MATHS CP**

Dis à l'oral le résultat de ces additions.

$32+10=...$ $25+20=...$ $54+10=...$ $33+30=...$ $10+29=...$

39**MES PETITS DEVOIRS DE MATHS CP**

Révise la table d'addition (+5)

+ 5		DÉPART	$1 + 5 =$	$3 + 5 =$	$5 + 5 =$	$7 + 5 =$
						$9 + 5 =$
			$10 + 5 =$	$8 + 5 =$	$6 + 5 =$	$4 + 5 =$
			$2 + 5 =$	$0 + 5 =$		
			$5 + 0 =$			
			$5 + 10 =$	$5 + 1 =$	$5 + 9 =$	$5 + 2 =$
					$5 + 8 =$	$5 + 3 =$
						$5 + 7 =$
		ARRIVÉE	$5 + 5 =$	$5 + 6 =$	$5 + 4 =$	

40**MES PETITS DEVOIRS DE MATHS CP**

Lis l'heure sur ces horloges

**41****MES PETITS DEVOIRS DE MATHS CP**

Révise la table d'addition (+6)

+ 6		DÉPART	$0 + 6 =$	$2 + 6 =$	$4 + 6 =$	$6 + 6 =$
						$8 + 6 =$
			$9 + 6 =$	$7 + 6 =$	$5 + 6 =$	$3 + 6 =$
			$1 + 6 =$	$10 + 6 =$		
			$6 + 0 =$			
			$6 + 10 =$	$6 + 1 =$	$6 + 9 =$	$6 + 2 =$
					$6 + 8 =$	$6 + 3 =$
						$6 + 7 =$
		ARRIVÉE	$6 + 5 =$	$6 + 6 =$	$6 + 4 =$	