

42



MES PETITS DEVOIRS DE MATHS CP

Observe les opérations et trouve les résultats le plus rapidement possible en te servant de l'approximation :

$34+29= \dots$

a.123 b. 63 c. 23

$67-38= \dots$

a.29 b. 59 c. 109

$12+69= \dots$

a.31 b. 81 c. 61

$60-14= \dots$






a.46 b. 66 c. 16

43



MES PETITS DEVOIRS DE MATHS CP

Joue au jeu des soustractions (pris sur le site le casier de Cathy)

départ →	10 - 7	4 - 4	10 - 8	3 - 1		10 - 6	9 - 8	10 - 10	8 - 8 ↓
9 - 7								10 - 5	
8 - 1									
								10 - 2	
9 - 1								6 - 1	
4 - 3								5 - 4	
10 - 0	9 - 9		8 - 2	10 - 9	9 - 2	7 - 2	10 - 1	10 - 3	8 - 2 ←

44



MES PETITS DEVOIRS DE MATHS CP

Trouve l'opération correspondante au dessin pour connaître le nombre de pommes



45



MES PETITS DEVOIRS DE MATHS CP

Compte jusqu'à de 63 à 90 en avançant et en reculant avec et/ou sans la bande. Si c'est facile, compte de 2 en 2, de 3 en 3, de 4 en 4, de 5 en 5.

63	64	65	66	67	68	69	70	71	72	73	74	75	76	77	78	79	80	81	82	83	84	85	86	87	88	89	90
----	----	----	----	----	----	----	----	----	----	----	----	----	----	----	----	----	----	----	----	----	----	----	----	----	----	----	----

46



MES PETITS DEVOIRS DE MATHS CP

Complète ces opérations à l'oral :

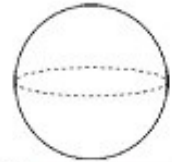
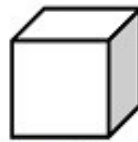
85+1=..... 77+2=..... 99+1=..... 90-1=..... 94+3=.....

47



MES PETITS DEVOIRS DE MATHS CP

Dis le nom de ces solides



48



MES PETITS DEVOIRS DE MATHS CP

Joue au jeu des soustractions (pris sur le site le casier de Cathy)

départ →	11 - 7	14 - 4	10 - 8	13 - 7		11 - 6	9 - 8	17 - 10	8 - 8 ↓
12 - 7									11 - 8
16 - 9									
	12 - 9								17 - 9
14 - 8									12 - 6
18 - 10	9 - 9								11 - 9
		18 - 9	10 - 9	13 - 8	15 - 7	13 - 9	14 - 7	15 - 6	←

Niveau 2 résultats inférieurs à 10


0
4 7
8 6 3
6 9 7 8
5 2 1 9 5 10

49



MES PETITS DEVOIRS DE MATHS CP

Indique l'heure qu'il est sur chaque pendule



50



MES PETITS DEVOIRS DE MATHS CP

Le jeu des 5 dés. La maitresse dit : 17 . Thomas a tiré ça :



Trouve deux solutions

51



MES PETITS DEVOIRS DE MATHS CP

Lis les nombres.



52



MES PETITS DEVOIRS DE MATHS CP

Trouve le résultat de ces opérations.

60-2=.... 15+5=.... 72-2=.... 23+5=.... 91-2=.... 51+5=....

53



MES PETITS DEVOIRS DE MATHS CP

Trouve le résultat de ces additions.

$$60+17=.... \quad 80+12=.... \quad 60+11=.... \quad 80+15=.... \quad 90+5=....$$

54



MES PETITS DEVOIRS DE MATHS CP

Camille a posé sa règle pour mesurer. Indique la mesure de chaque objet sur l'exercice de Camille. Tu ne peux pas utiliser ta règle car ce n'est pas à la bonne échelle.

1)

2)

55



MES PETITS DEVOIRS DE MATHS CP

Complète les phrases à l'oral :

<p>Le verre est plus (<i>lourd - léger</i>) que le bol.</p>	<p>L'ananas est plus (<i>lourd - léger</i>) que la banane.</p>	<p>L'arrosoir est (<i>plus - aussi</i>) lourd que le sac.</p>