

56**MES PETITS DEVOIRS DE MATHS CP**

Complète les phrases à l'oral :

Porte monnaie	Achat	
		J'ai _____ Euros. Je dépense _____ Euros. Il me reste _____ Euros.

Porte monnaie	Achat	
		J'ai _____ Euros. Je dépense _____ Euros. Il me reste _____ Euros.

<https://tizofun-education.com>

à partir de

57**MES PETITS DEVOIRS DE MATHS CP**

Complète les additions à trou :

$8 + \dots = 11$ $65 + \dots = 70$ $15 + \dots = 21$ $78 + \dots = 84$ $43 + \dots = 63$

58**MES PETITS DEVOIRS DE MATHS CP**

Trouve l'opération correspondant au dessin pour connaître le nombre de ballons :



Trouve l'opération correspondant au dessin pour connaître le nombre de ballons :



59



MES PETITS DEVOIRS DE MATHS CP

Compte jusqu'à de 83 à 106 en avançant et en reculant avec et/ou sans la bande. Si c'est facile, compte de 2 en 2, de 3 en 3, de 4 en 4, de 5 en 5.



60



MES PETITS DEVOIRS DE MATHS CP

Complète ces opérations à l'oral :

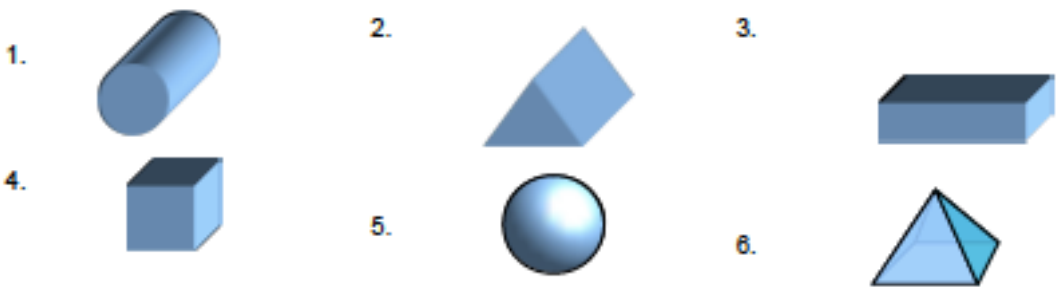
$85 + 10 = \dots\dots$ $77 + 10 = \dots\dots\dots$ $99 - 10 = \dots\dots\dots$ $100 - 10 = \dots\dots$ $94 - 10 = \dots\dots$

61



MES PETITS DEVOIRS DE MATHS CP

Dis le nom de ces solides

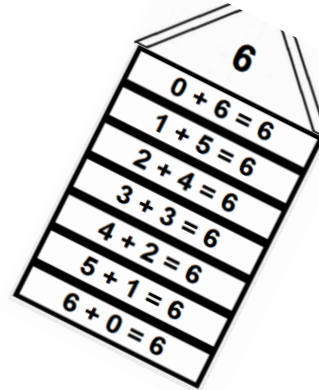
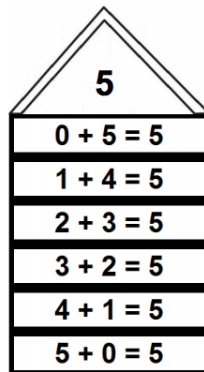


62



MES PETITS DEVOIRS DE MATHS CP

Maisons des additions : sans regarder, dis à l'oral toutes les manières de faire 5 et 6 en additionnant deux nombres



63



MES PETITS DEVOIRS DE MATHS CP

Indique l'heure qu'il est sur chaque réveil

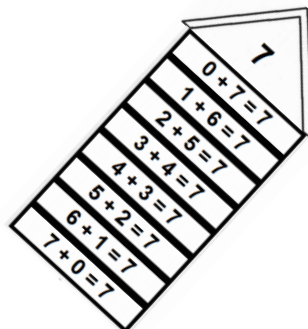


64



MES PETITS DEVOIRS DE MATHS CP

Maison des additions : sans regarder, dis à l'oral toutes les manières de faire 7 additionnant deux nombres:



65

MES PETITS DEVOIRS DE MATHS CP

Lis les nombres.

97

110

88

65

90

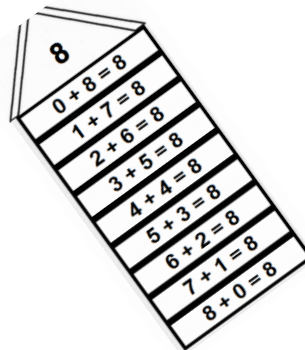
96

116

66

MES PETITS DEVOIRS DE MATHS CP

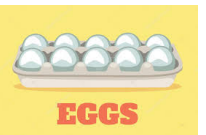
Maison des additions : sans regarder, dis à l'oral toutes les manières de faire 8 additionnant deux nombres:

**67**


MES PETITS DEVOIRS DE MATHS CP

Résous ces problèmes à l'oral :

1) J'ai 40 œufs. Combien de boîtes de 10 œufs aurai-je besoin ?



2) Marc a 7 bonbons et Julia 5 chewing-gums. Ils les mettent dans un panier



vide. Combien de friandises y a-t-il dans le panier ?

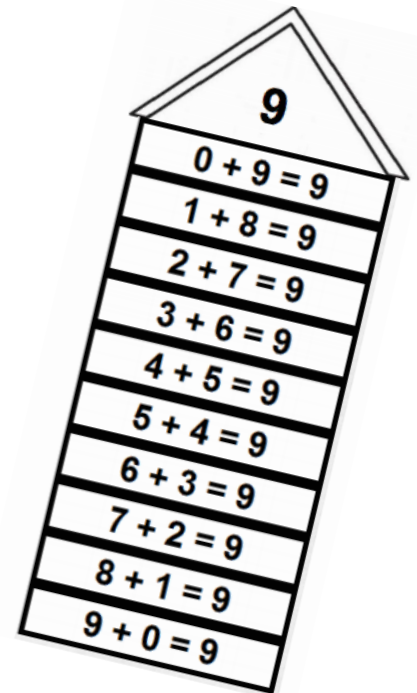
3) Il y a trente personnes dans le bus. 5 personnes descendent et 2 personnes montent. Combien de personnes y a-t-il dans le bus maintenant ?



68

MES PETITS DEVOIRS DE MATHS CP

Maison des additions : sans regarder, dis à l'oral toutes les manières de faire 9 additionnant deux nombres:

**69**

MES PETITS DEVOIRS DE MATHS CP

Je calcule de tête, je calcule en ligne ou je pose l'opération ?

$56+3=$

$45+32=$

$71+9+15=$

$6+4+7=$

$89+4=$

70

MES PETITS DEVOIRS DE MATHS CP

Complète les phrases avec une unité de mesure qui convient :

Pierre pèse 30 Le tableau mesure 2 Je sors du travail à 18.....

Ma règle mesure 20 Ce camion chargé pèse 3 La récré dure 15.....